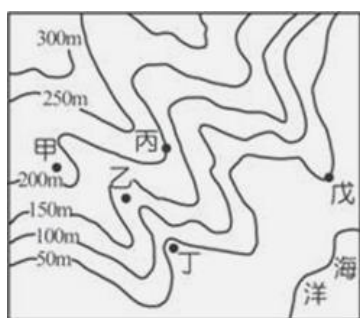


臺北市誠正國民中學107學年度第一學期第三次段考八年級地理科試題

一、單題(每題二分)

1. 中國一月 0°C 等溫線通過淮河，和下列哪一座山脈？(A)南嶺 (B)天山 (C)秦嶺 (D)陰山
2. 中國哪個經濟特區，有「五口通八國，一路連歐亞」的地緣優勢？(A)喀什 (B)海南 (C)廈門 (D)深圳
3. 中國地理環境條件差異頗大，各地區的交通運輸特色不同，鐵公路分布密集的地區具有下列哪一項特色？(A)水力蘊藏豐富 (B)環境生態脆弱 (C)氣候乾燥少雨 (D)工商業較發達
4. 中國北京的某項資源有嚴重的超限利用情形，使其成為地層下陷的警戒區。下列哪一項政府措施，最有助於減緩此一環境問題？(A)於華北地區設置防護林 (B)將西部天然氣送至北京 (C)從長江引水至華北地區 (D)自山西輸入煤礦至北京
5. 此地是中國許多大河的發源地，如黃河、長江等大河，該地區水源的保育是重要的工作。上述的發源地，分布在下列哪一種氣候區？(A)熱帶季風氣候 (B)溫帶季風氣候 (C)溫帶草原氣候 (D)高地氣候
6. 長江流域覆蓋中國大陸五分之一陸地面積，養育了中國大陸三分之一的人口。在穿越中國後於上海市入海，該河川最後注入哪一個海洋？(A)印度洋 (B)太平洋 (C)北極海 (D)大西洋
7. 中國產生沙塵暴的主要原因，可能為下列何者？(A)工業汙染 (B)夏季強風 (C)退田還林 (D)過度開墾
8. 中國沙塵暴的部分沙塵，會隨著下列哪個方向的季風飄至臺灣，使空氣中的懸浮微粒增加？(A)東南季風 (B)西南季風 (C)東北季風 (D)西北季風
9. 在中國規劃的水資源環境保育工程中，會針對各地區情況的不同而因地制宜。請問：下列哪一個地區對於汙水下水道系統的需求最為迫切？(A)塔里木盆地 (B)長江三角洲 (C)內蒙古高原 (D)柴達木盆地
10. 人類對土地的過度利用容易導致環境破壞，其中在乾燥地區從事下列何種活動易造成土壤鹽鹼化？(A)林業 (B)牧業 (C)礦業 (D)農業
11. 近年，中國投資環境面臨一個新的關卡，下列何者最可能是目前臺商在中國投資的調整方向？(A)由勞力密集轉向技術密集產業 (B)由民生工業轉向重工業 (C)由重工業轉向民生工業 (D)由技術密集轉向勞力密集產業
12. 過度的開發山坡地使山區的水土流失嚴重，某日因山區大量降雨導致土石流。當地政府強制撤離居住在河谷附近的居民，則圖一中哪幾戶會被優先撤離？(A)甲乙 (B)乙丁 (C)丙戊 (D)甲戊



▲圖一



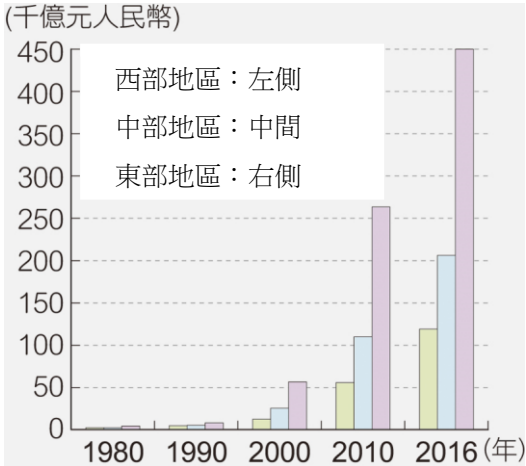
▲圖二

13. 福建省泉州港是中國海上絲綢之路的起點，宋元時期泉州港被中世紀世界著名旅行家馬可波羅譽為「世界第一大港」。當時的商人常利用盛行風乘帆船下南洋進行貿易，貿易的範圍包括東南亞、印度。圖二中哪一期間的盛行風最有利於北上返鄉？(A)甲 (B)乙 (C)丙 (D)丁
14. 中國幅員廣大，若以其地理位置判斷，下列哪一城市最早迎接2019的日出？(A)哈爾濱 (B)拉薩 (C)烏魯木齊 (D)重慶
15. 塔里木河是中國最長的內流河，其終點湖泊為羅布泊，近年來該河流的水量減少，使得羅布泊消失。造成此種現象的主要原因為何？(A)大量取水從事農耕 (B)沙漠化現象加劇 (C)圍湖造田與湖爭地 (D)山坡地開闢梯田
16. 中國政府為了解決沙塵暴的問題，築了一道「綠色長城」，「綠色長城」指的是下列哪項措施？(A)修築堤防 (B)建造水壩 (C)圍湖造田 (D)積極造林
17. 為了使北部區域用水不至匱乏，中國政府推動了「南水北調」的工程，主要是要引用哪條河川的水資源來紓緩北部區域用水的需求？(A)珠江 (B)黃河 (C)黑龍江 (D)長江
18. 中國東半部是主要的農耕地帶，西半部則為傳統畜牧區，此農牧業分布最主要是受到哪個因素的影響？(A)氣候 (B)水文 (C)地形 (D)土壤
19. 中國經濟發展造成內部發展程度差異，哪個直轄市所屬的經濟地帶與其它三者不同？(A)北京 (B)上海 (C)天津 (D)重慶
20. 甲、太平洋板塊；乙、菲律賓海板塊；丙、歐亞板塊；丁、印澳板塊。中國第一階梯主體青藏高原，是由哪兩個板塊擠壓所造成的？(A)甲乙 (B)丙丁 (C)甲丙 (D)乙丁
21. 中國近年的經濟發展有耀眼的成績，帶動國際貿易的發展，由於陸域鄰國眾多，加上改革開放與鄰國眾多，加上改革開放與鄰國關係改善，邊境貿易日益活絡。下列哪個省可以看到邊境貿易的情形？(A)山東省 (B)四川省 (C)福建省 (D)黑龍江省
22. 中國政府為帶動中部經濟帶的發展，因此推動「中部崛起計畫」，希望促進中部的都市化。下列哪一城市由於為水陸運交通要點，具有承東啟西的重責大任，而成為中部經濟帶中工商業最發達的現代化都市？(A)重慶 (B)上海 (C)武漢 (D)天津

23. 中國被稱為世界工廠和世界市場，主要與下列哪一項因素具有密切的關係？(A)教育發達 (B)氣候複雜 (C)土地遼闊 (D)人口眾多
24. 下圖為中國某牧場購置的設備，從圖中可以看出此牧場經營發展的方向為何？(A)開發休閒牧場，推廣生態教育 (B)維持傳統畜牧方式，避免傳統文化失傳 (C)發展生物科技產業，研發最新生技產品 (D)企業化經營，提高產量，擴大生產規模



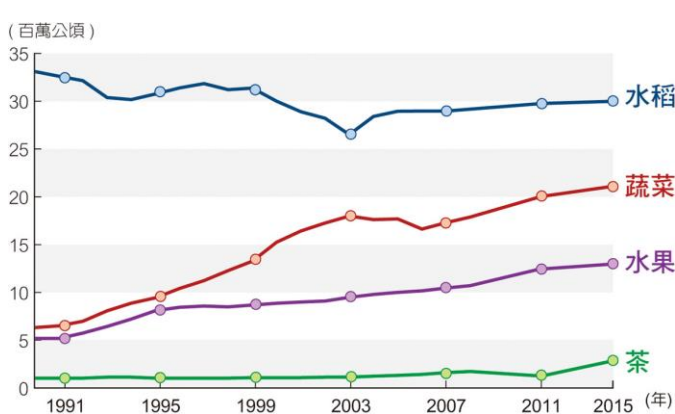
25. 下圖為中國三大經濟帶歷年國內生產毛額比較圖，由內容推斷中國在快速發展的過程中出現何種現象？(A)區域發展不均 (B)能源消耗過大 (C)貿易順差擴大 (D)人口分布不均



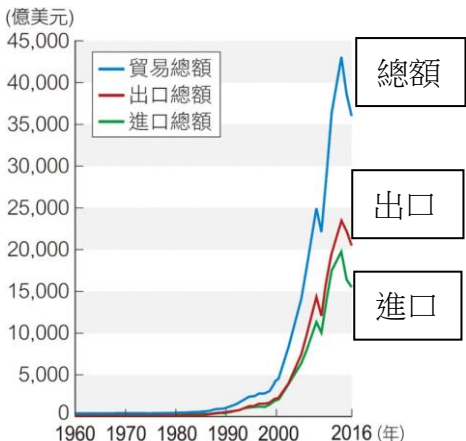
26. 中國在經濟發展過程中，受到哪一項因素的影響，使其擁有成為「世界市場」的潛力？(A)工商用地增加 (B)國民所得增加 (C)對外交通便利 (D)國土面積廣大
27. 中國對外貿易額如下表所示，中國對哪些貿易夥伴的國際貿易呈現出超？(A)俄羅斯、歐洲聯盟、美國 (B)日本、澳洲、東南亞國家協會 (C)俄羅斯、歐洲聯盟、東南亞國家協會 (D)日本、澳洲、美國

國 家	出口(億美元)	進口(億美元)
俄羅斯	331	238
日 本	1, 161	1, 506
澳 洲	222	374
東南亞國家協會	983	1, 329
歐洲聯盟	3, 434	1, 681
美 國	2, 524	814

28. 圖三觀察現代中國農業的種植面積，我們可以發現蔬菜、水果、茶的種植面積有持續增加的趨勢。這種現象表示中國的農業生產發生了什麼樣的變化？(A)因應自然環境的變化 (B)以市場需求為導向 (C)朝向觀光農業發展 (D)朝向休閒農業發展



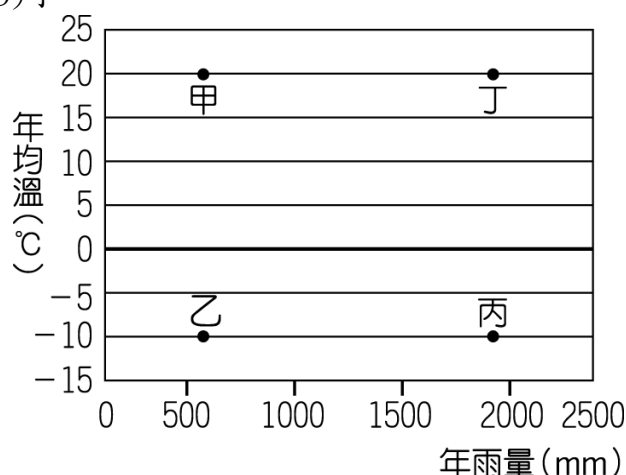
▲圖三



▲圖四

29. 圖四為中國國際貿易的發展圖，根據此圖 1980 年代後中國貿易總額激增，此事實最主要受哪個關鍵因素所影響？(A)中國與臺灣在東南沿海組成自由貿易區 (B)中國經濟改革開放允許外界投資 (C)中國加入世界貿易組織後市場門戶大開 (D)香港回歸中國後資金大量湧入

30. (甲)水牛耕水田(乙)高粱田收割(丙)採茶姑娘高唱山歌(丁)逐水草而居的游牧民族。上述哪些生活方式較可能在中國南部地區見到？(A)甲乙 (B)乙丙 (C)甲丙 (D)丙丁
31. 地下水的蒸發常造成鹽類沉積在地表，使土壤呈現鹽鹼化的現象。請問：這種現象最可能出現在下圖的哪一種氣候環境？(A)甲 (B)乙 (C)丙 (D)丁



32. 中國建築的坎井主要分布在新疆地區，其總數近千條長度約5000公里。新疆地區修築坎井的主要目的為下列何者？(A)減少水源蒸發 (B)防止水土流失 (C)增加土壤沃度 (D)構成美麗地景
33. 中國 2015 年 8 月開通了最北的高鐵「哈齊高鐵」，此建設完善東北鐵路網加速工業帶經濟發展，對促進東北老工業基地振興有重要意義。此工業帶為下列何區？(A)珠三角 (B)長三角 (C)環渤海 (D)西北邊境

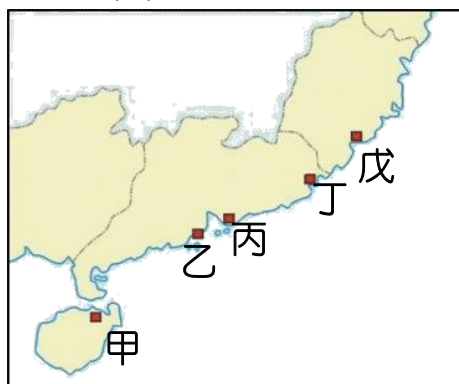
二、題組(每題二分)

★ 根據下方地圖回答相關問題：



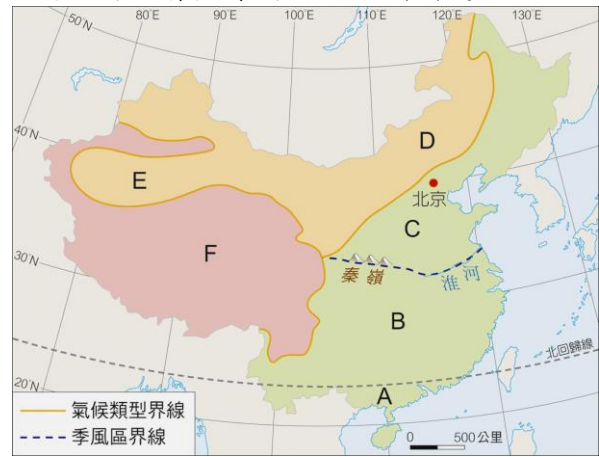
34. 俗稱「可燃冰」的甲烷水合物，具有使用方便、燃燒值高、清潔無污染等特點，被譽為 21 世紀最有希望的資源。其所生成條件為海洋深處及陸地永凍層，中國發現可燃冰的地區最有可能在圖中何處？(A)甲(B)乙(C)丙 (D)丁
35. 近年來因沙漠化情形，加上全球氣候變遷導致乾旱。圖中哪一地區的沙漠化，導致整個亞洲東部地區都遭受到嚴重的沙塵暴問題？(A)甲(B)乙(C)丙(D)丁
36. 根據研究暴露在沙塵暴中，容易導致眼睛過敏、引發氣喘，哪一季節最容易受到沙塵暴的影響，盡可能不要外出活動，出門時也最好戴口罩？(A)夏末秋初(B)秋末冬初(C)冬末春初(D)春末夏初

★ 下圖為中國東南沿海 1980 年代所設立的經濟特區：

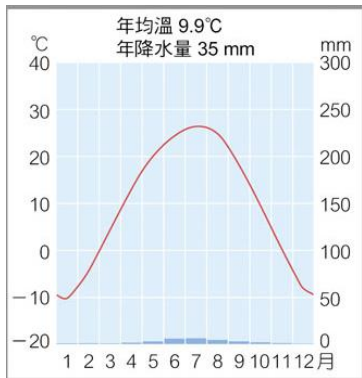


37. 戊為最接近金門的經濟特區，近年來兩岸小三通也都經此進出，請問為哪一經濟特區？(A)汕頭 (B)珠海 (C)海南 (D)廈門
38. 深圳原為廣東小漁村因位置緊鄰香港，成為大陸經濟發展的領頭先鋒。請問深圳位於圖中何處？(A)甲 (B)乙 (C)丙 (D)丁
39. 甲經濟特區位於哪一個行政區？(A)湖南省 (B)福建省 (C)廣東省 (D)海南省

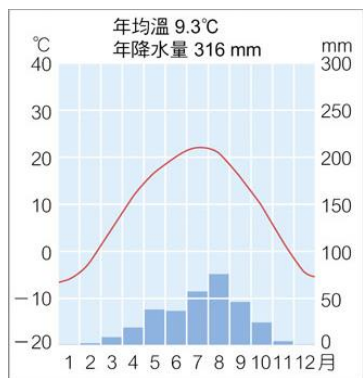
★ 下圖為中國氣候類型分布圖及四張氣候圖，請根據圖回答下列問題：



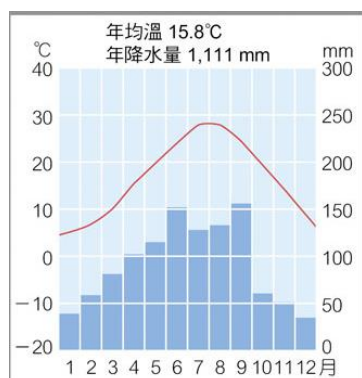
甲、



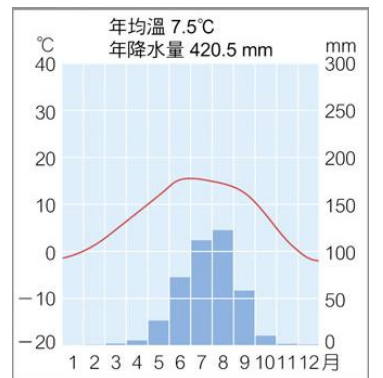
乙、



丙、



丁、



40. 甲氣候圖屬於何種氣候類型？(A)溫帶季風氣候(B)溫帶沙漠氣候(C)高地氣候(D)熱帶季風氣候
41. 甲氣候類型位於地圖中何處？(A)C (B)D (C)E (D)F
42. 甲、乙、丙、丁四個地方，哪一個地方距海最近？(A)甲 (B)乙 (C)丙 (D)丁
43. 承上題，判斷的依據為？(A)最冷月均溫 (B)年雨量 (C)最暖月均溫 (D)年均溫
44. 甲、乙、丙、丁四個地方，緯度最低的地區？(A)甲 (B)乙 (C)丙 (D)丁
45. 地圖中哪一個地區，最適合從事稻米耕作？(A)A (B)C (C)E (D)F
46. 地圖中哪一個地區，年溫差最大？(A)A (B)B (C)C (D)D
47. 下圖中的牲畜能耐旱與寒，可在雪坡上步行、激流中游泳、峭岩中行走，是重要的供役使家畜，其最可能在下列何處看到？(A)C (B)D (C)E (D)F



48. 承上題，該地區的氣候圖為？(A)甲 (B)乙 (C)丙 (D)丁
49. 圖中哪一個地區的生長季最長，年收穫次數最多？(A)A (B)B (C)C (D)D
50. 丁氣候圖當地傳統從事的畜牧活動類型為何？(A)山牧季移 (B)欄牧 (C)放牧 (D)游牧